



ПРОСВЕЩЕНИЕ

ОСНОВАНО В 1930

## ЧЕК-ЛИСТ

# ЧТО ДОЛЖЕН ЗНАТЬ И УМЕТЬ ЧЕТВЕРОКЛАССНИК ПОСЛЕ ВТОРОЙ ЧЕТВЕРТИ

Математика  
4 класс 2 четверть


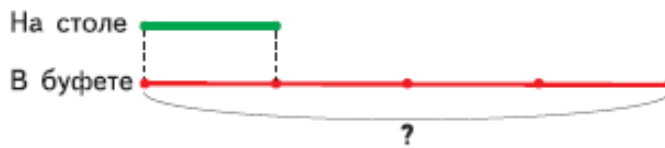


см. Ответ 3 в разделе «Ответы»

- Моделировать связи между данными и искомым в текстовых задачах  
**Проверить поможет задание:**

В буфете тарелок было в 4 раза больше, чем на столе. Когда на стол поставили 12 новых тарелок, в буфете и на столе тарелок стало поровну. Сколько тарелок было в буфете?

Закончи схематический чертёж и реши задачу.



см. Ответ 4 в разделе «Ответы»

- Выполнять сложение и вычитание значений величин

**Проверить поможет задание:**

1) 7 м 4 дм 3 см - 4 м 0 дм =		
2) 6 ц 85 кг - 3 ц 98 кг =		
3) 19 км 015 м + 985 м =		
1) $\begin{array}{r} 743 \\ - 406 \\ \hline \end{array}$	2)	3)

28 м 30 см - 12 м =
14 ч 45 мин - 30 мин =
3 т 004 кг + 7 т =
8 км 015 м + 32 км =

см. Ответ 5 в разделе «Ответы»

- Выполнять письменное умножение и деление многозначного числа на однозначное

**Проверить поможет задание:**

× 23780	× 63700	× 124657
7	4	3

Сначала определи число цифр в записи частного, а тем выполни деление.

7386	73857	2564
------	-------	------

см. Ответ 6 в разделе «Ответы»

- Решать уравнения вида  $x \cdot 8 = 26 + 70$ ,  $x : 6 = 18 \cdot 5$ ,  $80 : x = 46 - 30$

**Проверить поможет задание:**

**14** Решить уравнения.

15 · x = 120 - 90	x : 8 = 35 + 65
-------------------	-----------------

см. Ответ 7 в разделе «Ответы»

- Решать задачи на пропорциональное деление.

**Проверить поможет задание:**

С первого огорода собрали 168 кг помидоров, а со второго — 272 кг. Все помидоры разложили в ящики, по 8 кг в каждый. Сколько всего ящиков заняли собранные помидоры?

Проверь ответ по условию задачи.


*Ответ:*

см. Ответ 8 в разделе «Ответы»

## Задания для проверки знаний и тренировки умений вы найдете в пособиях:



**Моро М.И., Волкова С.И.**

«Для тех, кто любит математику. 4 класс

<https://clck.ru/SDiN8>



**Волкова С.И.** «Математика.

Проверочные работы. 4 класс»

<https://clck.ru/SDifo>



**Моро М.И., Волкова С.И.**

«Математика. Рабочая тетрадь. 4 класс. В 2-х частях. Часть 1

<https://clck.ru/SDiUG>



**Волкова С.И.** «Математика.

Тетрадь учебных достижений. 4 класс»

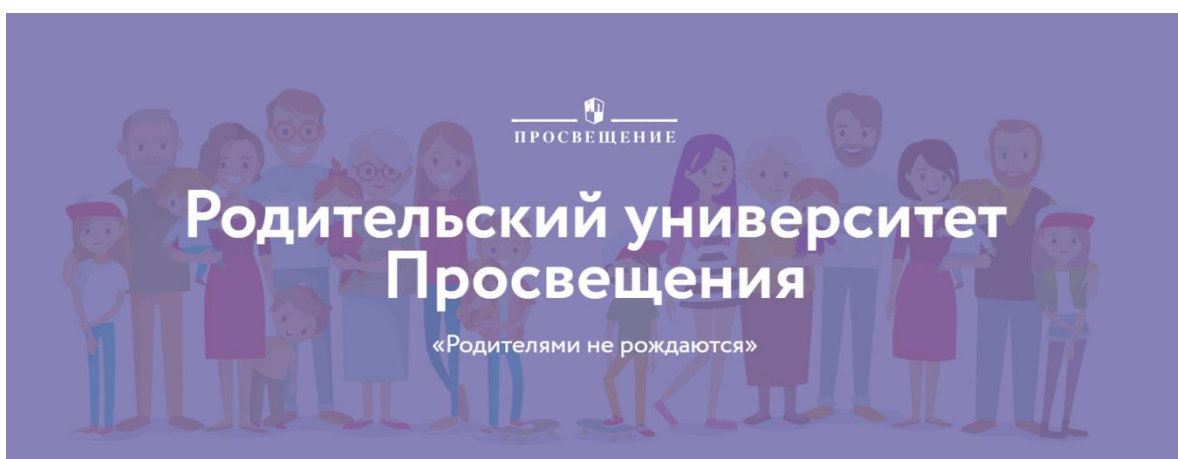
<https://clck.ru/SDiar>



## Интернет-ресурсы и сервисы для родителей

В помощь родителю школьника мы подготовили подборку интерактивных сервисов для тренировки и отработки знаний и умений:

- [Аудиоприложения к учебникам и рабочим тетрадям](#)
- [Skysmart: интерактивная рабочая тетрадь](#) к учебникам и учебным пособиям издательства «Просвещение»
- [Медиатека с электронными формами учебников](#) с 1 по 11 класс



- [Родительский университет](#) – это полноценная экосистема для тех, кто любит своих детей, а еще любит себя и знает, что эта любовь начинается с заботы и внимания.

Экосистема включает:

- Вебинары и офлайн-мероприятия
- Статьи, интервью и наглядные материалы
- Услуги для родителей, детей и педагогов
- Навигация по лучшим проектам России
- Экспертное сообщество
- Площадка для обмена опытом

- **Официальный интернет-магазин Просвещение**

Всю необходимую учебную литературу для школы и дошкольного образования, подготовки к ВПР, ОГЭ и ЕГЭ вы можете приобрести без наценки в [официальном интернет-магазине издательства](#).

## Ответы на задания:

1.

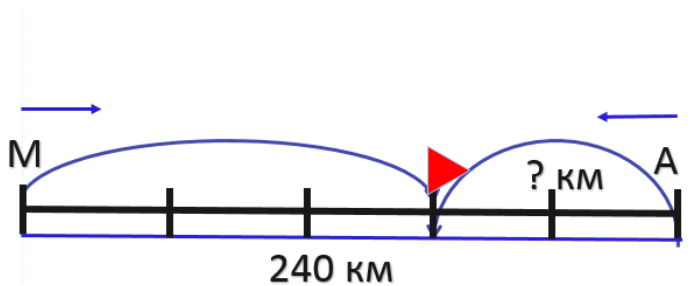
1)	$+ 3659$	$+ 47381$	$+ 323287$
	$- 2608$	$- 5619$	$- 145913$
	<b>6267</b>	<b>53000</b>	<b>469200</b>
2)	$- 5468$	$- 47987$	$- 886891$
	$- 2107$	$- 4537$	$- 126490$
	<b>3361</b>	<b>43450</b>	<b>760401</b>

2.

25 Реши уравнения и сделай проверку.

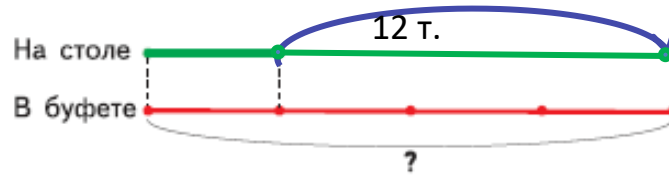
$56 - x = 100 : 2$	$x + 35 = 100 - 40$
$56 - x = 50$	$x + 35 = 60$
$x = 56 - 50$	$x = 60 - 35$
$x = 6$	$x = 25$
$56 - 6 = 100 : 2$	$25 + 35 = 100 - 40$
<b>50 = 50</b>	<b>60 = 60</b>

3.



$240 : 5 \times 2 = 96 \text{ (км)}$
<i>Ответ:</i> 96 км проехал автобус

4.



1)  $12 : 3 = 4$  (т.) – на столе

2)  $4 \times 4 = 16$  (т.) – в буфете

*Ответ:* 16 тарелок

5.

1)  $7\text{ м } 4\text{ дм } 3\text{ см} - 4\text{ м } 0\text{ дм } 6\text{ см} = 3\text{ м } 3\text{ дм } 7\text{ см}$

2)  $6\text{ ц } 85\text{ кг} - 3\text{ ц } 98\text{ кг} = 2\text{ ц } 87\text{ кг}$

3)  $19\text{ км } 015\text{ м} + 985\text{ м} = 20\text{ км}$

$$\begin{array}{r} 1) \quad 743 \\ - 406 \\ \hline 337 \end{array}$$

$$\begin{array}{r} 2) \quad 685 \\ - 398 \\ \hline 287 \end{array}$$

$$\begin{array}{r} 3) \quad 19015 \\ + 985 \\ \hline 20000 \end{array}$$

$28\text{ м } 30\text{ см} - 12\text{ м} = 16\text{ м } 30\text{ см}$

$14\text{ ч } 45\text{ мин} - 30\text{ мин} = 14\text{ ч } 15\text{ мин}$

$3\text{ т } 004\text{ кг} + 7\text{ т} = 10\text{ т } 004\text{ кг}$

$8\text{ км } 015\text{ м} + 32\text{ км} = 30\text{ км } 015\text{ м}$

6.

$$\begin{array}{r} \times 23780 \\ 166460 \end{array}$$

$$\begin{array}{r} \times 63700 \\ 254800 \end{array}$$

$$\begin{array}{r} \times 124657 \\ 373971 \end{array}$$

6

$$\begin{array}{r} 7386 \\ \times 123 \\ \hline 13 \\ \underline{12} \\ 18 \\ \underline{18} \\ 0 \end{array}$$

$$\begin{array}{r} 73857 \\ \times 71055 \\ \hline 3 \\ \underline{0} \\ 38 \\ \underline{35} \\ 35 \\ \underline{35} \\ 0 \end{array}$$

$$\begin{array}{r} 2564 \\ \times 24 \\ \hline 16 \\ \underline{16} \\ 0 \end{array}$$



7.

Реши уравнения.

$15 \cdot x = 120 - 90$	$x : 8 = 35 + 65$
$15x = 30$	$x : 8 = 100$
$x = 30 : 15$	$x = 100 \cdot 8$
$x = 2$	$x = 800$
$15x = 120 - 90$	$800 : 8 = 35 + 65$
$30 = 30$	$100 = 100$

8.

Масса 1 ящ.	Количество ящ.	Масса всех ящ.
8кг	?	168 кг
		272 кг

$(168 + 272) : 8 = 55$  (ящ.)      Ответ: 55 ящиков